



Ευρωπαϊκή Ένωση  
Ευρωπαϊκό Κοινωνικό Ταμείο



Κυπριακή Δημοκρατία



Διαρθρωτικά Ταμεία  
της Ευρωπαϊκής Ένωσης στην Κύπρο



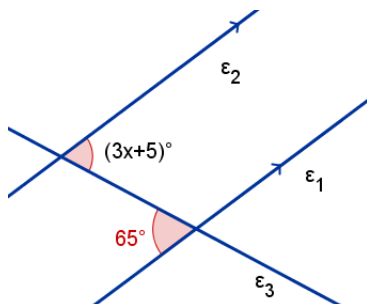
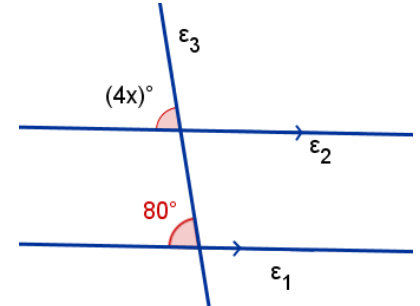
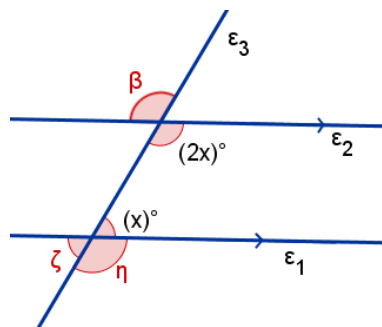
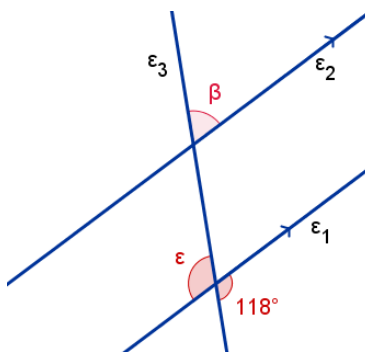
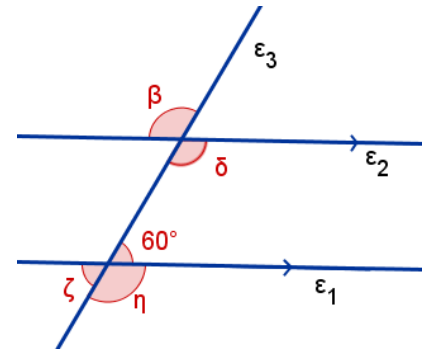
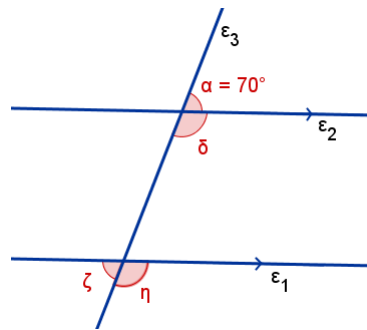
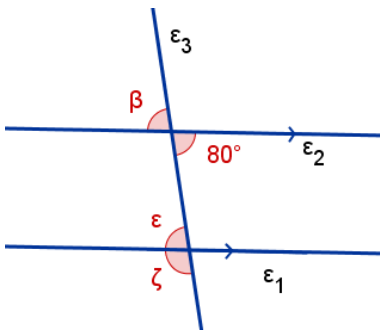
ΥΠΟΥΡΓΕΙΟ ΠΑΙΔΕΙΑΣ, ΠΟΛΙΤΙΣΜΟΥ, ΑΘΛΗΤΙΣΜΟΥ ΚΑΙ ΝΕΟΛΑΙΑΣ  
Διεύθυνση Μέσης Τεχνικής και Επαγγελματικής Εκπαίδευσης και Κατάρτισης

Τα Έργα συγχρηματοδοτούνται από το Ευρωπαϊκό Κοινωνικό Ταμείο της Ε.Ε. και την Κυπριακή Δημοκρατία

ΟΝΟΜΑΤΕΠΩΝΥΜΟ: \_\_\_\_\_

ΤΜΗΜΑ: \_\_\_\_\_

Να υπολογίσετε τις τιμές των  $\alpha, \beta, \gamma, \delta, \epsilon, \zeta, \eta$  και  $x$  στις πιο κάτω περιπτώσεις:



Να υπολογίσετε τις γωνίες που ονομάζονται με μικρά γράμματα,

